

Lesson 1 기초학습

5의 짝 덧셈(4 + 1)

가

+4

일의자리 아래알 네 개를 올린다.



나

+5

아래알에 1을 더할 수가 없으므로 위의 알을 내린다.




다

-4


더할수 1의 짝 4를 빼준다.

Lesson 1

 다음 빈곳에 들어갈 수를 넣어보아요.



4 + 1 =



4 + = 5

기초연습 주판을 이용해 보아요.



①	②	③	④	⑤
14	4	13	2	4
1	11	1	2	1
3	2	1	11	14
_____	_____	_____	_____	_____

Lesson 1

주산

주판을 이용해 보아요.

(1)

5

①	②	③	④	⑤
12	13	4	2	4
2	1	1	2	10
1	1	12	11	1

(2)

5

①	②	③	④	⑤
10	4	14	4	4
4	11	1	1	1
1	2	1	13	14

Lesson 1

암산

심산판을 이용해 보아요.
(검산은 머리와 손을 이용해 보아요.)

(1)

			분	초	5
	①	②	③	④	⑤
	3	2	4	1	4
	1	2	1	3	1
	1	1	3	1	2
답					
검산					

(2)

			분	초	5
	①	②	③	④	⑤
	4	4	2	3	1
	1	1	2	1	3
	1	4	1	1	1
답					
검산					

Lesson 2 기초악습

백셈(-) 5의 짝 연습하기


5의 짝이란?
1부터 4까지의 수
(1, 2, 3, 4)들 중에서
두개의 수가 서로 합하여
5가 되는 수를
말합니다.




1	의 짝은	=====>	4	입니다.
2	의 짝은	=====>	3	입니다.
3	의 짝은	=====>	2	입니다.
4	의 짝은	=====>	1	입니다.

5의 짝 노래 (나리나리 개나리 노래에 맞춰)

[기본노래]







[백셈노래]











Lesson 2

기초훈련

1. 다음 그림의 갯수를 빼면 나머지는 몇개일까요?

	-		=	<input type="text"/>
	-		=	<input type="text"/>
	-		=	<input type="text"/>

2. 다음과 같이 빼기해서 알맞은 숫자를 써 보아요.

	-		=	1
	-		=	<input type="text"/>
	-		=	<input type="text"/>
	-		=	<input type="text"/>

Lesson 2

3. 위의 수에서 아래 수를 빼 보아요.

$$\begin{array}{r} 5 \\ - 4 \\ \hline \end{array}$$

$$\begin{array}{r} 5 \\ - 1 \\ \hline \end{array}$$

$$\begin{array}{r} 5 \\ - 3 \\ \hline \end{array}$$

$$\begin{array}{r} 5 \\ - 2 \\ \hline \end{array}$$

$$\begin{array}{r} 5 \\ - 4 \\ \hline \end{array}$$

$$\begin{array}{r} 5 \\ - 2 \\ \hline \end{array}$$

4. 다음 □ 안에 알맞은 숫자를 써 보아요.

①

$$\begin{array}{r} 5 \\ - \square \\ \hline 1 \end{array}$$

②

$$\begin{array}{r} 5 \\ - \square \\ \hline 2 \end{array}$$

③

$$\begin{array}{r} 5 \\ - \square \\ \hline 3 \end{array}$$

④

$$\begin{array}{r} 5 \\ - \square \\ \hline 4 \end{array}$$

Lesson 2

5. 다음 ○ 안에 알맞는 숫자를 써 넣어 보아요.

- ○

- ○

- ○

- ○

- ○

- ○

Lesson 3 기초학습

5의 짝 뺄셈(5 - 4)

가

+5

일의 자리 윗알을 검지로 내린다.



나

-5

아래알에서 4를 빼줄 수가 없으므로 위의 알을 올린다.



다

+1

뺄 수 4의 짝 1을 더한다.

Lesson 3

다음 빈곳에 들어갈 수를 넣어보아요.

$$\begin{array}{c}
 \text{5 briefcases} \\
 \text{5}
 \end{array}
 - \text{ } = \text{1 briefcase}$$

$$\begin{array}{c}
 \text{5 strawberries} \\
 \text{5}
 \end{array}
 - \begin{array}{c}
 \text{4 strawberries} \\
 \text{4}
 \end{array}
 = \text{ }$$

기초연습 주판을 이용해 보아요.



①	②	③	④	⑤
15	16	13	7	4
-4	-4	2	-4	14
1	2	-4	11	-4